

SKOLPROV FÖRARINTYGET

Namn: _____ Personnummer: _____

Tilltalsnamn och efternamn (Ifylls av provtagaren) TEXTA läsligt!

Underskrift: _____

Med denna underskrift bekräftas att skrivningen utförts av provtagaren

Förhållsörrättare: _____

Datum: _____ Godkänd Icke godkänd

Provet består av 40 frågor. För godkänt skall samtliga frågor vara till 60 % rätt besvarade i respektive del. Provtid 1,5 timma.

DEL 1

- 1) . Hur markeras vattendjupet 3-6 meter på ett sjökort ?
- 2) . Hur markeras vattendjupet 0-3 meter på ett sjökort ?
- 3) . Vad anger djupsiffror i lutande stil ?
- 4) . Vilken är huvudfärdriktningens riktning runt kusterna ?
- 5) . Vilka ljus måste roddbåt eller segelbåt under 7 m föra ?
- 6) . Hur kan man avgöra om det är kollisionsrisk ?
- 7) . Vilket av nedan är en korrekt inledning på ett nödanrop ?
- 8) . När inträffar statistiskt sett de flesta båtbränder ?
- 9) . Var kan du hitta information om vilka regler som gäller för landstigningsförbud & fågelskydd mm.
- 10) . Vilket ankare kan du använda som tillfälligt "lunchankare" ?
- 11) . Hur lång bör en ankarlina vara med hänsyn till vattendjupet ? (Ej kätting)
- 12) . Hur ser ett Väderstrecksmärke VÄST ut ?
- 13) . Hur blåser vinden runt ett högtryck ?
- 14) . Vid vilket tryckfall på din barometer kan det bli kuling & Storm ?
- 15) . Hur blåser sjöbrisen ?

SKOLPROV FÖRARINTYGET

- 16) Hur blåser vinden runt ett lågtryck ?
- 17) Hur stark kan sjöbrisen bli ? - Och hur vrider vinden ?
- 18) Vilket siktvärde definieras som dimma respektive tät dimma ?
- 19) När skall lanternor & ljus föras ?
- 20) Vilken färg skall du ha på prickarna när du färdas i huvudfärdriktningen ?
- 21) Hur ser ett Väderstrecksmärke OST ut ?
- 22) Var hittar du info om missvisningen i dina hemma farvatten ?
- 23) Hur är ett skärgårdskort märkt (Antal siffror märkningen) ?
- 24) Hur kan du se att ditt sjökort är rättat och när det är rättat ?
- 25) De flesta sjöräddningsinsatser beror på motorhaveri – Vad kan motorstörningar ofta bero på ?

SKOLPROV FÖRARINTYGET

DEL TVÅ

26) Vad betyder följande Internationella beteckningar över bottenbeskaffenhet ?


S	M	Cy	St

27)

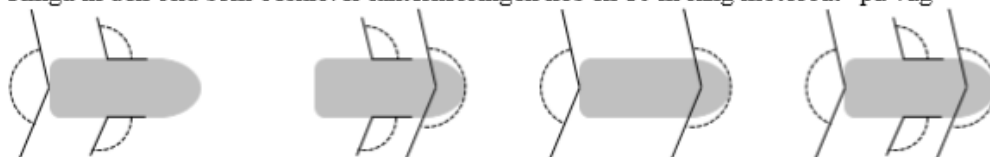
Ringa in den bild som beskriver ljuset från styrbords "sidoljus"



Ringa in den bild som beskriver ett "toppljus"!



Ringa in den bild som beskriver lanternföringen hos en 10 m lång motorbåt "på väg"
















SKOLPROV FÖRARINTYGET

28)


I alla situationer nedan är det risk för kollision. Rita med pilar hur farkosterna i resp. ruta ska agera för att följa sjövägsreglerna.

10 m motorbåt 10 m segelbåt 100 m lastfartyg i trång farled

  ↓	 	 
  	 	 

SKOLPROV FÖRARINTYGET

29) Vad betyder följande Förbudsmärken ?



30) Vad betyder följande Varningsmärken ?



31) Vad betyder följande manöversignaler ?

A) Vad betyder följande manöversignal (En kort) ?



B) Vad betyder följande manöversignal (Två korta) ?



C) Vad betyder följande manöversignal (Tre korta) ?



SKOLPROV FÖRARINTYGET

DEL TRE

32) Du går till respektive från en ledfyr ! Hur skall du manövrera om du kommer in i röd sektor ?

33) Vad gäller för missvisningen (A eller B) ?

A. Oberoende av kursen men beroende av geografisk position

B. Oberoende av geografisk position men beroende av kursen

34) Ange Latitud & Longitud för fyren *ÖRNGRUND* utanför Nynäshamn ?

35) Du får din position till N 58° 55,75 E 18° 04,70 Vilket djup är det här och hur långt är det till fyren *ÖRNGRUND* ?

36) Det är ungefär 10 Nautiska mil mellan fyren *ÖRNGRUND* och *MYSINGEHOLM*. Hur lång tid skulle denna distans ta med en fart av 5 knop ?

37) Vilken är den rättvisande kursen mellan till N 58° 55,75 E 18° 04,70 och N 58° 58,7 E 18° 14,7 ?

38) Du befinner dig vid position N 58° 58,7 E 18° 14,7 ?

- Vilken Bäring bör du ha till *MYSINGEHOLM* respektive *ÄLVSNABBEN* ?

39) Om det i fråga 37 blåst en sydlig vind på 14 m/s som gett dig en avdrift på 10 grader – Viken kurs skulle du då styra för att komma fram ?

40) Du befinner dig vid "Slätpricken Mysingeholmsgrund" – Vilken distans och kurs har du till *ÄLVSNABBEN* ? – Du tar dig till din destination på två timmar – Vilken fart har du då färdats med ?

LYCKA TILL !!!